






PLAN DE TRABAJO PARA 3°

DÍA	ASIGNATURA	ACTIVIDAD O RECURSO
23	ESPAÑOL	CONJUGAR 15 VERBOS EN PASADO, PRESENTE Y FUTURO
24	MATEMATICAS	OPERACIONES BÁSICAS, DESCOMPOSICIÓN DE NÚMEROS, CALCULO MENTAL.
25	ESPAÑOL	CON AYUDA DE TU MAMA ESCRIBE TU AUTOBIOGRAFÍA, REALIZA UN DIBUJO DE LO QUE HICISTE EN EL DÍA, TERMINA LA HISTORIA, BUSCAR PALABRAS EN EL DICCIONARIO GUITARRA, MANGUERA, GUERRERO Y ÁGUILA, LEER UN CUENTO Y ESCRIBIR DE QUE SE TRATÓ Y REALIZAR EL DIBUJO
26	MATEMATICAS	RESUELVE LAS OPERACIONES BÁSICAS.
27	ESPAÑOL	RECORTAR UNA NOTICIA Y REALIZAR UN RESUMEN
30	MATEMATICAS	SUMA DE CANTIDADES, ORDENAR NÚMEROS DE MAYOR A MENOR, PONER MANECILLAS A RELOJ.
31	ESPAÑOL	RECORTAR UNA NOTICIA Y SUBRAYAR LOS VERBOS QUE APARECEN.
01	MATEMATICAS	RESOLVER PROBLEMAS DE FRACCIONES.
01	ESPAÑOL	COPIA UNA NOTICIA Y ESCRIBE CON ROJO LAS LETRAS MAYÚSCULAS, ORDENAR ALFABÉTICAMENTE, DESCRIBIR LAS IMÁGENES, BUSCAR SIGNIFICADO DE PALABRAS, REALIZAR UN DIBUJO DE LO QUE HICISTE EN EL DÍA.
02	MATEMATICAS	REALIZAR OPERACIONES DE MULTIPLICACIONES.
03	ESPAÑOL	COMPRESIÓN LECTORA (LECTURA EL COLMO), PALABRAS LEÍDAS POR MINUTO, ORDEN ALFABÉTICO DE PALABRAS Y SOPA DE LETRAS.
03	MATEMATICAS	RESOLUCIÓN DE PROBLEMAS, OPERACIONES BÁSICAS, CALCULO MENTAL.

Nombre: _____ Fecha: _____ 3º Grado

L u n e s	$\begin{array}{r} 842 \\ +373 \\ \hline 322 \end{array}$	$\begin{array}{r} -873 \\ -216 \\ \hline \end{array}$	$500+500=$	Realiza las siguientes descomposiciones. $485=400+80+5$ $3648=$ _____ $1956=$ _____ $349=$ _____	Resuelve lo siguiente $6 \times 5 =$ ____ $7 \times 9 =$ ____ $7 \times 6 =$ ____ $8 \times 5 =$ ____ $8 \times 9 =$ ____ $6 \times 3 =$ ____ $5 \times 4 =$ ____ $5 \times 2 =$ ____
M a r t e s	Describe lo siguiente. 	Realiza un dibujo de lo que hiciste en el día.	Termina el final... En un día soleado de primavera, dos zorras jugaban muy contentas. Tenían de espectadora a una jirafa alta, a la que no querían porque no pertenecía al grupo de animales que viven en el bosque...	Lee las siguientes palabras guitarra manguera magüey guerrero águila	Para dormir un cuento hay que leer, al terminar recuerda como se llama el cuento, cuál fue tu personaje favorito.
M i e r c o i e s	Representa la cantidad  1 ----- 2	¿Cuánto es? 	Resuelve lo siguiente +100 <input type="text"/> <input type="text"/> +100 <input type="text"/> 450	Ordena de mayor a Menor las siguientes Cantidades $340-445-900-1200$ $2345-100-650$	Son las 5:45 
J u e v e s	Ordena Alfabéticamente ballena koala gusano zapato	Describe lo siguiente 	Explica el significado de los siguientes adjetivos amigable tolerante comprensivo	Lee lo siguiente Salí a comprar algo para comer. Regreso pronto, me tardó como media hora. Susí Lo que acabas de leer Es un _____	Realiza un dibujo de lo que hiciste en el día.
V i e r n e s	Ayuda a mamá a recoger tu cuarto	Recojo mi plato al terminar de comer	Salgo al parque a jugar con mi Mamá y/o papá	Dibuja lo que más te gusta hacer cuando estás en tu casa.	Lee un cuento para poder dormir. Recuerda El nombre del cuento y sus personajes

Día 1. Escribe 15 verbos.	Día 2. Con ayuda de tu mamá escribe su autobiografía.	Día 3. Recorta una noticia y realiza un resumen.	Día 4. Recorta una noticia y subraya los verbos que aparecen.	Día 5 Copia una noticia y escribe con rojo las letras mayúsculas..
Día 6. Representa gráficamente las siguientes fracciones: $\frac{1}{5}$, $\frac{3}{4}$, $\frac{1}{2}$, $\frac{1}{4}$, $\frac{5}{8}$ y $1\frac{1}{2}$.	Día 7. Completa la siguiente sucesión numérica: 54, 48; 42, ..., ..., ..., ..., ..., ..., ..., ...	Día 8. Resuelve las siguientes operaciones: $1240+2410$, $2860-1430$, $2430+1870$, $960-240$, $1640+2380$.	Día 9. Una pizza tiene 9 rebanadas. ¿Cuántas rebanadas hay en 2, 4, 6, 8 y 10 pizzas?	Día 10 Una bolsa de palomitas cuesta \$8 pesos. ¿Cuánto sería por 3, 7, 10, 11 y 20?